



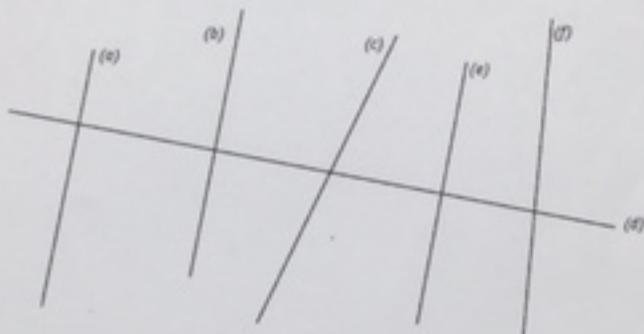
Nom Date

Identifier et tracer des droites perpendiculaires

1. Marque les angles droits de ces figures après les avoir vérifiés avec ton équerre ou ton gabarit.



2. Repasse en rouge les droites perpendiculaires à la droite (d).



3. Trace une droite perpendiculaire (y) à la droite (d).

